



Tabliczka mnożenia przez 1, 2, 3, 4 i 5

•	1	2	3	4	5	6	7	8	9	10
1				4	5	6		8	9	
2			6	8		12	14	16		20
3	3			12	15	18		24	27	
4	4		12				28			
5	5			20				40		
6	6			24						
7	7									
8		16		32						
9			27							
10		20								

Zadanie 1. Uzupełnij tabelkę mnożenia.

Zadanie 2. Korzystając z wypełnionej tabelki, wpisz wyniki mnożenia.

$4 \cdot 7 = \square$

$5 \cdot 4 = \square$

$3 \cdot 6 = \square$

$3 \cdot 7 = \square$

$8 \cdot 2 = \square$

$8 \cdot 4 = \square$

Zadanie 3. Uzupełnij działania, korzystając z tabelki.

$\square \cdot 4 = 16$

$7 \cdot \square = 35$

$25 = \square \cdot \square$

$\square \cdot 5 = 20$

$8 \cdot \square = 32$

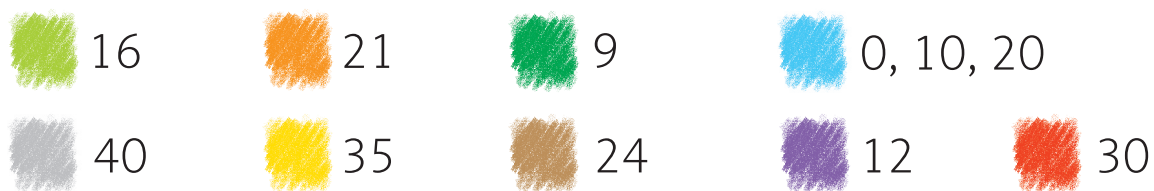
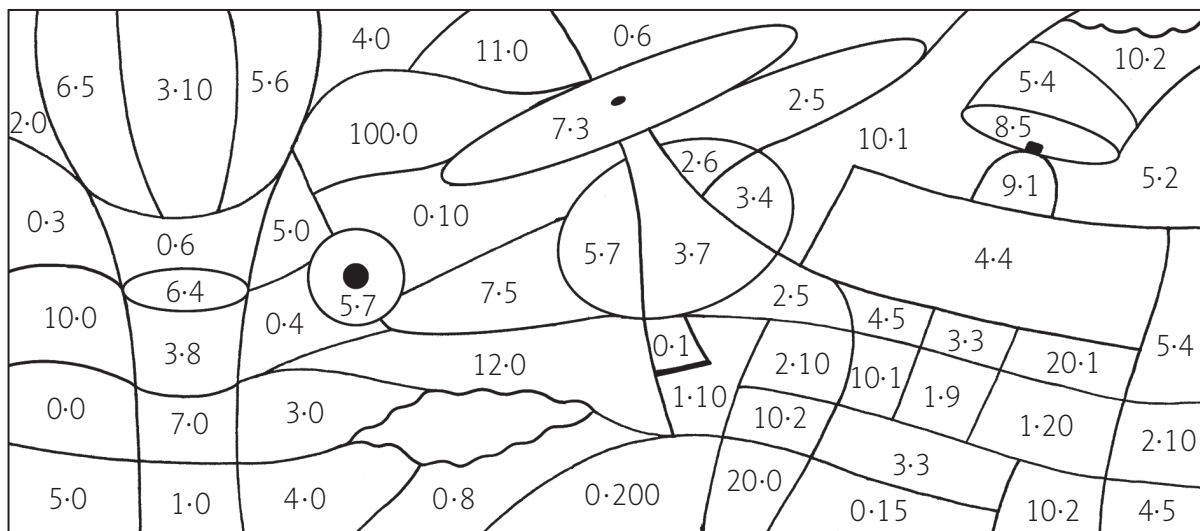
$30 = \square \cdot \square$

$\square \cdot 4 = 28$

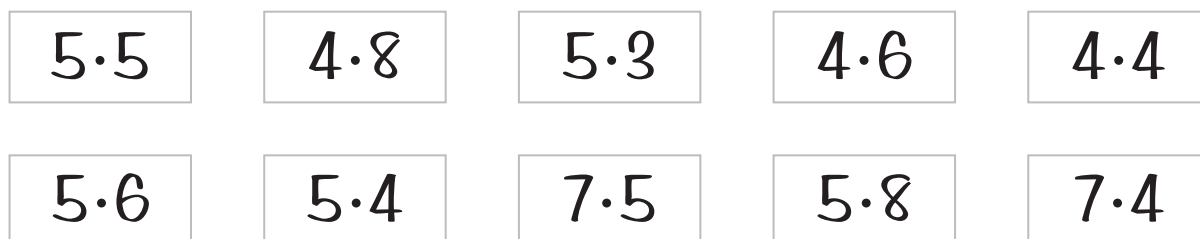
$9 \cdot \square = 18$

$27 = \square \cdot \square$

Zadanie 4. Oblicz wyniki i pokoloruj rysunek zgodnie z instrukcją.



Zadanie 5. Pokoloruj karty z działaniami, których wyniki pamiętasz.



Zadanie 6. Wstaw odpowiedni znak: <, > lub =.

$5 \cdot 10$ ● $10 \cdot 5$ $9 \cdot 1$ ● $8 \cdot 1$
 $4 \cdot 6$ ● $5 \cdot 6$ $7 \cdot 4$ ● $7 \cdot 5$